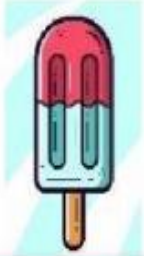


Taller de recuperación **Ciencias Naturales**, grado procesos básicos **período 1**, recuerda que el taller debe estar realizado por el estudiante y se complementa **CON UNA SUSTENTACIÓN ORAL**. Nombre Completo: _____

Escribe en que estado se observa el agua en las siguientes imágenes



















El ciclo del agua

1. Ubica las palabras donde corresponde

Nieve

Nubes

Mar

Vapor

Lluvia



2. Lee las frases y completa con las palabras:


El sol Calienta el _____ y la transforma en _____.


Al enfriarse el _____ se convierte en gotitas de agua y así se forman las _____.


El agua de las nubes se enfria y cae a la tierra en forma de _____ o de _____.


Hoja 2


Escribe 5 cosas que se perciban con cada sentido

UISTA  _____

OÍDO  _____

TACTO  _____

GUSTO  _____

OLFATO  _____

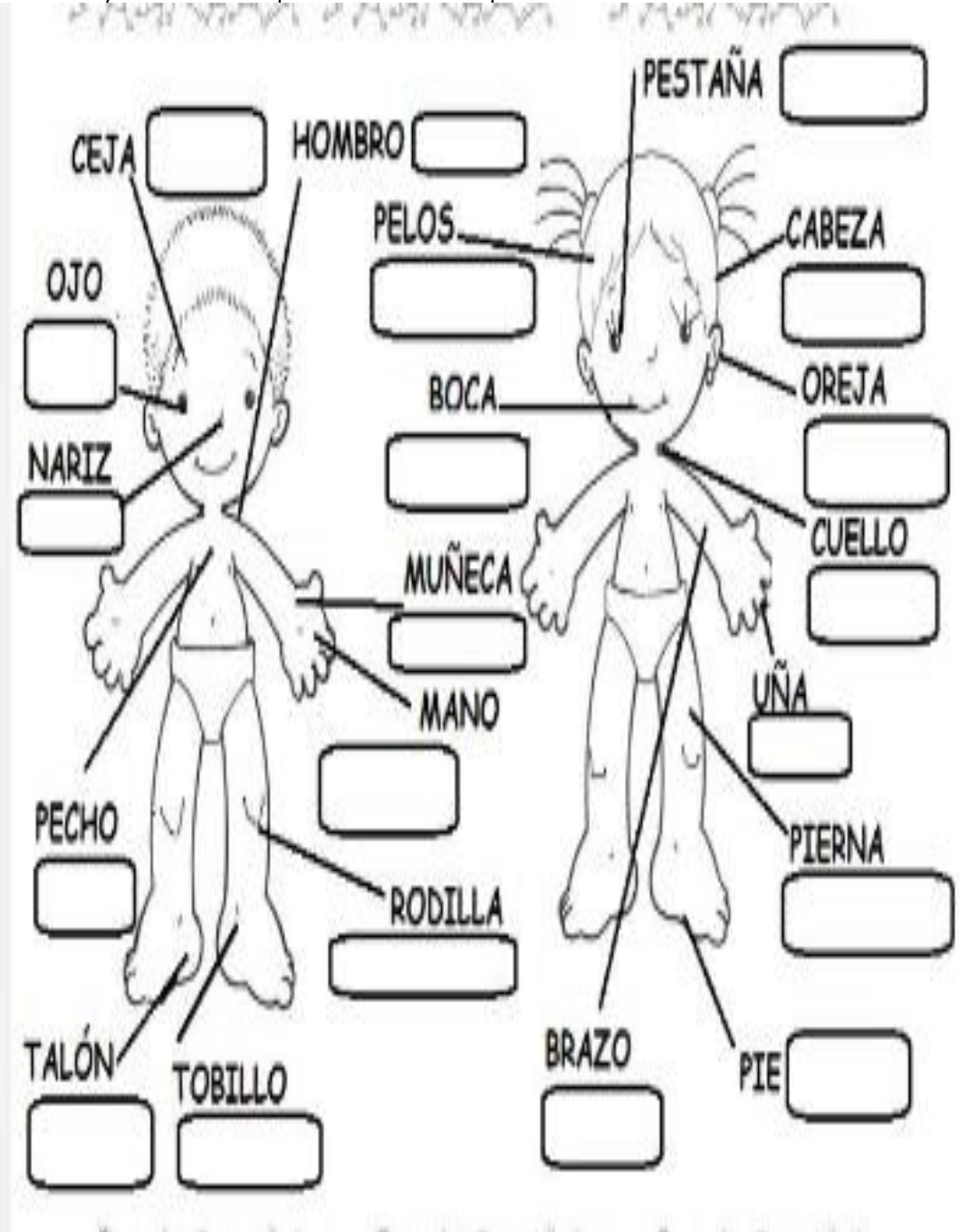
11-13. Encierra a los seres vivos que necesitan del agua para poder vivir.



14-14. Encierra con rojo las acciones que desperdician agua y con verde las que la cuidan.



Estudia y Escribe los partes del cuerpo



PESTAÑA

CEJA HOMBRO

OJO PELOS CABEZA

NARIZ BOCA OREJA

MUÑECA CUELLO

MANO UÑA

PECHO RODILLA PIERNA

TALÓN TOBILLO BRAZO PIE

